

## Arm en rijk werkblad 3.3: Gezondheidszorg

Naam: \_\_\_\_\_

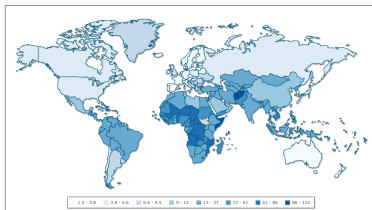
Datum: \_\_\_\_\_

De kwetsbaarste groep mensen in een bevolking zijn de zuigelingen. Zuigelingen zijn kleine kinderen alleen melk drinken en helemaal afhankelijk zijn van de moeder.

Zuigelingensterfte is een getal dat wordt aangegeven per 1000 levend geboren baby's in een land. Omdat het een getal per 1000 inwoners is, noemen we dit 'promille'.

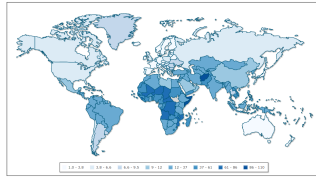
Op onderstaande kaart is de zuigelingensterfte per land weer gegeven. De zuigelingensterfte is weergegeven per 1000 levendgeborenen.

Deze kaart heb je nodig bij vraag 1 t/m 3.



10

1. Welke 2 landen staan er het slechtst voor als het om zuigelingensterfte gaat? Als je de naam van het land niet kent zoek deze dan op via internet.



---

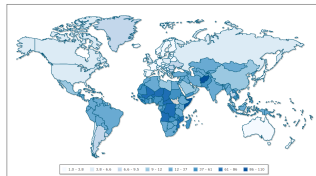
---

---

---

10

2. Wat is de zuigelingensterfte in Nederland?



---

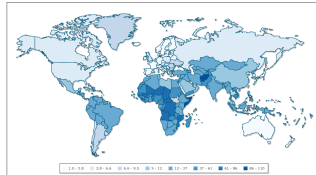
---

---

---

10

3. Is de zuigelingensterfte van Nederland de laagste van Europa? Leg je antwoord uit door het geven van twee andere voorbeelden.



---

---

---

---

Voor vraag 4 t/m 12 heb je de volgende link nodig:

[Gapminder](#)

Op de X-as staat het BNP per hoofd

Op de Y-as staat de levensverwachting bij de geboorte

10

4. Wat stellen de verschillende kleuren van de bolletjes voor?

---

---

---

---

10

5. Wat stelt de grote van de bolletjes voor?

---

---

---

---

10

6. Druk op play, je ziet dat de tijd vooruit gaat. Bekijk het filmpje een paar keer.

Als je het filmpje bekijkt zie je een paar keer de bolletjes ineens allemaal naar beneden gaan, geef hiervoor een oorzaak.

---

---

---

---

10

7. Geef van de volgende begrippen aan welke trend je ziet. Is het op wereldschaal toegenomen, afgenomen of gelijk gebleven? Inwoneraantal, levensverwachting en BNP/hoofd.

---

---

---

---

10

8. Selecteer rechts Nederland (Netherlands). Druk weer vanaf 1800 op play. Met hoeveel jaar neemt de levensverwachting tussen 1800 en 2022 in Nederland toe? Laat je berekening zien

---

---

---

---

9. Hoe kun je de 2e wereldoorlog herkennen in de lijn van Nederland?

Spoel terug naar 1940 -1945.

---

---

---

---